



Nacionalni centar
za vanjsko vrednovanje
obrazovanja

Identifikacijska
naljepnica

PAŽLJIVO NALIJEPI TI

PSIHOLOGIJA

DRŽAVNA MATURA

šk. god. 2022./2023.

PSI.55.HR.R.K1.20



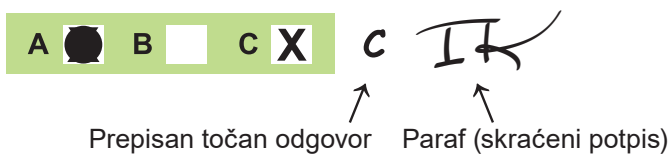
53687

Psihologija

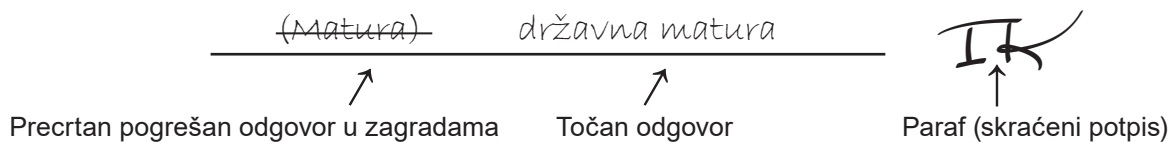
Način označavanja odgovora na listu za odgovore:



Način ispravljanja pogrešaka na listu za odgovore:



Način ispravljanja pogrešaka u ispitnoj knjižici:



OPĆE UPUTE

Pozorno pročitajte sve upute i slijedite ih.

Ne okrećite stranicu i ne rješavajte zadatke dok to ne odobri voditelj ispitne prostorije.

Nalijepite identifikacijske naljepnice na sve ispitne materijale koje ste dobili u sigurnosnoj vrećici.

Ispit traje **90** minuta.

Ispred svake skupine zadataka uputa je za rješavanje. Pozorno je pročitajte.

Možete pisati po listu za koncept, ali se njegov sadržaj neće bodovati.

Pišite čitko. Nečitki odgovori bodovat će se s nula (0) bodova.

Na 2. stranici ove ispitne knjižice prikazan je način označavanja odgovora i načini ispravljanja pogrešaka. Pri ispravljanju pogrešaka potrebno je staviti paraf (isključivo skraćeni potpis, a ne puno ime i prezime).

Upotrebjavajte isključivo kemijsku olovku kojom se piše plavom ili crnom bojom.

Kada riješite zadatke, provjerite odgovore.

Želimo Vam mnogo uspjeha!

Ova ispitna knjižica ima 20 stranica, od toga 1 praznu.

I. Zadatci višestrukoga izbora

U sljedećim zadacima od više ponuđenih odgovora samo je **jedan** točan.
Točne odgovore morate označiti znakom X na listu za odgovore.
Točan odgovor donosi jedan bod.

1. Koji od navedenih psihičkih procesa pripada skupini kognitivnih procesa?

- A. strah
- B. ljubomora
- C. rasuđivanje
- D. anksioznost

(1 bod)

2. Koje se od navedenih dostignuća odnosi na neznanstveno razdoblje psihologije?

- A. H. Ebbinghaus utvrđuje krivulju zaboravljanja.
- B. W. Köhler utvrđuje učenje uvidom kod čimpanza.
- C. I. P. Pavlov otkriva klasično uvjetovanje kod životinja.
- D. Hipokrat stvara tipologiju ličnosti prema tipu temperamenta.

(1 bod)

3. Koji je od navedenih problema predmet istraživanja socijalne psihologije?

- A. stavovi građana o migrantima
- B. utjecaj boje prostorije na raspoloženje
- C. utjecaj stresa na zapamćivanje sadržaja
- D. povezanost nagrađivanja i zadovoljstva zaposlenika

(1 bod)

4. Neka istraživanja utvrdila su jaku povezanost inteligencije i agresivnosti. Inteligentniji ljudi manje su skloni agresivnomu ponašanju. Koji od navedenih koeficijenata korelacije najbolje iskazuje opisanu povezanost?

- A. 0,00
- B. -0,10
- C. -0,60
- D. +0,75

(1 bod)

5. Koji od navedenih znakova dubine pripada skupini binokularnih znakova?

- A. relativna veličina
- B. paralaksa gibanja
- C. konvergencija očiju
- D. linearna perspektiva

(1 bod)

6. Nika u muzeju vidi staklene bočice i u vodiču čita da su to lakrimariji, posudice u kojima su Rimljani čuvali različite mirise i balzame. U sljedećoj prostoriji odmah uočava iste takve bočice za koje sad zna što su i čemu služe. Koja funkcija percepcije to omogućuje?

- A. kontekst
- B. kamuflaža
- C. rekognicija
- D. konstantnost

(1 bod)

7. Kojom se pojavom kod klasičnoga uvjetovanja može objasniti djetetov strah od svih dječjih sprava na igralištu, a ne samo ljuljačke na kojoj je palo i ozlijedilo se?

- A. gašenjem
- B. diskriminacijom
- C. generalizacijom
- D. spontanim vraćanjem

(1 bod)

8. Gordani je isporučeni novi ormarić, no bez uputa o sastavljanju. Nakon što je pažljivo promotrila sve dostavljene dijelove, Gordana je shvatila kako ga montirati. O kojoj je vrsti učenja riječ u navedenom primjeru?

- A. o učenju uvidom
- B. o učenju promatranjem
- C. o klasičnome uvjetovanju
- D. o operantnome uvjetovanju

(1 bod)

Psihologija

9. Koja se od navedenih informacija pamti automatski, bez ulaganja napora?

- A. osobni identifikacijski broj (OIB)
- B. notni zapis melodije koju sviramo
- C. mjesto susreta s poznatim sportašem
- D. nazivi kemijskih elemenata periodnoga sustava

(1 bod)

10. Pozorno pročitajte tekst.

Također, pamtim i kako smo se u skloništu koje je moj djed napravio kao zaklon od zračnih napada igrali skrivača. Nekad su se u njemu ljudi doista skrivali, a sad se mi igramo...

Izvor: <https://express.24sata.hr>

Napomena: Podatci o izvoru polaznoga sadržaja bit će objavljeni u rješenjima ispita.

Koja je vrsta pamćenja opisana u tekstu?

- A. senzorno
- B. epizodičko
- C. kratkoročno
- D. proceduralno

(1 bod)

11. Koji dio mozga aktivira simpatički dio živčanoga sustava kod mladića koji na poklon dobiva dugo željene karte za koncert omiljenoga *rock*-sastava?

- A. talamus
- B. hipofiza
- C. hipotalamus
- D. hipokampus

(1 bod)

12. Koja se od navedenih tvrdnja odnosi na intrinzičnu motivaciju?

- A. Posjećujem baku jer mi uvijek daje novac.
- B. Poklanjam cvijeće prijateljicama jer me to čini sretnom.
- C. Radim usluge drugima kako bi oni meni jednom pomogli.
- D. Volontiram u udruzi jer dobivam bonove za ručak u restoranu.

(1 bod)

13. Koji od navedenih stresora pripada traumatskim stresorima?

- A. otkaz na poslu
- B. oružana pljačka
- C. pad školske godine
- D. prekid dugogodišnje veze

(1 bod)

14. Franko se želi tetovirati, ali ne smije zbog zabrane roditelja. Koja od navedenih tvrdnja opisuje mladićev obrambeni mehanizam racionalizacije?

- A. Odlučuje promijeniti boju kose.
- B. Na roditeljsku zabranu reagira bijesnim lupanjem vrata i plakanjem.
- C. Govori da je tako bolje jer ljudi s tetovažama ionako izgledaju smiješno.
- D. Ne odustaje moliti roditelje da mu dopuste unatoč njihovom čvrstom stavu.

(1 bod)

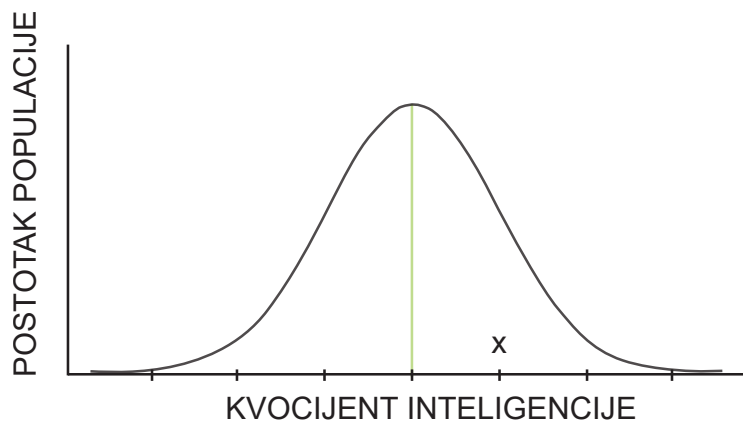
15. Koji je sukob motiva doživljavao engleski kralj Edward VIII. u trenutku kad je morao odabrati između željenoga statusa kralja i braka s Wallis Simpson, ženom koju je volio?

- A. višestrukoga odbijanja
- B. višestrukoga privlačenja
- C. istovremenoga privlačenja i odbijanja
- D. istovremenoga višestrukog privlačenja i odbijanja

(1 bod)

Psihologija

16. Pozorno promotrite grafički prikaz.



Koliki kvocijent inteligencije ima osoba čiji je rezultat označen znakom X na grafičkome prikazu?

- A. 75
- B. 95
- C. 115
- D. 130

(1 bod)

17. Kako bi se prema biheviorističkome pristupu ličnosti moglo objasniti ljubazno ponašanje učenika prema nastavniku?

- A. Kod učenika se podudaraju idealno i realno ja.
- B. Učenik ima visok položaj na dimenziji ugodnosti.
- C. Učenik ima razvijen superego i ponosi se sobom.
- D. Učenik je bio potkrijepljen za takvo ponašanje u prošlosti.

(1 bod)

18. Koji simptom pokazuje psihotična osoba koja je uvjeren da joj je netko na glavu usadio tuđu kosu?

- A. maniju
- B. deluziju
- C. opsesiju
- D. kompulziju

(1 bod)

19. Pozorno pročitatajte tekst.

Zašto je trava zelena? Zato što je to moja najmilija boja.


Izvor: Rathus, S., *Temelji psihologije*

Koje obilježje mišljenja prema Piagetu ilustrira navedeni primjer?

- A. animizam
- B. konzervaciju
- C. egocentrizam
- D. stalnost objekata

(1 bod)

20. Pozorno promotrite sliku.



Izvor: <https://unsplash.com>

Koja je vrsta igre prikazana na slici?

- A. paralelna igra
- B. simbolička igra
- C. igra ovladavanja
- D. igra prema pravilima

(1 bod)

Psihologija

21. Dijete oponaša svoje roditelje koji za vrijeme ručka pregledavaju obavijesti na mobitelu. Koji je oblik učenja opisan u navedenome primjeru?

- A. socijalno učenje
- B. kognitivno učenje
- C. klasično uvjetovanje
- D. operantno uvjetovanje

(1 bod)

22. Pozorno pročitajte tekst.

Car tako krene u procesiju. Skupio se cijeli grad da vidi cara i njegovo novo odijelo. (...) ali nitko se nije ni usudio reći da vide golog cara. Ljudi nisu htjeli priznati da su glupi, pa su se svi pretvarali da se dive caru i njegovom novom ruhu.

Izvor: www.bajke.hr

Napomena: Podatci o izvoru polaznoga sadržaja bit će objavljeni u rješenjima ispita.

Kojim se socijalnim utjecajem može objasniti ponašanje ljudi opisano u tekstu?

- A. konformizmom
- B. utjecajem manjine
- C. socijalnom ulogom
- D. difuzijom odgovornosti

(1 bod)

23. Koji od navedenih primjera predstavlja neverbalnu komunikaciju?

- A. Zakolutao je očima.
- B. Pomislio je na ljeto.
- C. Srce mu je ubrzano lupalo.
- D. Toplina mu je prostrujala tijelom.

(1 bod)

24. Kada je čula da je Ivo dobio otkaz na poslu, Tina je komentirala da je sigurno bio lijen i površan radnik, a potpuno je zanemarila činjenicu da se proizvodnja u njegovu odjelu postupno gasi. Kako se naziva opisana tendencija prenaplašavanja unutarnjih uzroka otkaza, a zanemarivanje vanjskih?

- A. osobna jednadžba
- B. pogreška prvoga dojma
- C. implicitna teorija ličnosti
- D. osnovna atribucijska pogreška

(1 bod)

25. Psiholog N. Triplett primijetio je da biciklisti brže voze bicikl ako su u utrci s drugim biciklistima, nego kada im se mjeri vrijeme u pojedinačnoj vožnji. Kako se naziva vrsta socijalnoga utjecaja kojom se može objasniti ova pojava?

- A. deindividuacija
- B. socijalna inhibicija
- C. socijalna facilitacija
- D. difuzija odgovornosti

(1 bod)

26. Koji će od navedenih primjera biti najučinkovitiji u mijenjanju predrasuda jedne skupine djece prema drugoj skupini u razredu?

- A. razrednica ističe vrline skupine prema kojoj postoje predrasude
- B. psiholog učenike podučava o štetnosti i nepravедnosti predrasuda
- C. nastavnik organizira debatu kako bi se vidjelo koja će skupina biti uspješnija
- D. učenici zajednički rade na projektu s kojim će sudjelovati na državnome natjecanju

(1 bod)

27. Lovro smatra da su ljudi koji slušaju hip hop glazbu zanimljivi i duhoviti. Koji pojam iz socijalne psihologije ilustrira navedeni primjer?

- A. verbalnu komunikaciju
- B. selektivnost percepcije
- C. implicitnu teoriju ličnosti
- D. neverbalnu komunikaciju

(1 bod)

II. Zadatci kratkoga odgovora

U sljedećim zadacima odgovorite kratkim odgovorom (riječju ili jednostavnom rečenicom).
Odgovore upišite **samo** na predviđeno mjesto u ispitnoj knjižici.
Točan odgovor donosi jedan bod.

28. U jednome istraživanju psiholog L. Festinger pridružio se kultu čiji su članovi vjerovali da se bliži kraj svijeta. Živio je s njima mjesecima kako bi potajno proučavao njihovo ponašanje i bilježio ga. Kojom se istraživačkom metodom koristio Festinger?

(1 bod)

29. Kako se naziva perceptivna pojava koja omogućuje konobaru da se usmjeri na glas gosta koji naručuje jelo unatoč buci u restoranu?

(1 bod)

30. Pozorno pročitajte tekst.

A kada bi Luka imao loptu, pretvarao bi se u smirenog maestra sredine terena. Zaobilazio je sve zapreke, dodavao lopte lijevo i desno, duge i kratke. Bio je najelegantniji igrač na terenu i nije izgubio loptu niti jedan jedini put.

Izvor: Oldfield, M. i T., *Moj nogometni heroj – Luka Modrić*

Koja vrsta dugoročnoga pamćenja Luki Modriću omogućuje virtuoznost u igri opisanoj u tekstu?

(1 bod)

31. A. Maslow je rekao: *Glazbenik mora stvarati glazbu, slikar mora slikati, pjesnik mora pisati kako bi pronašao mir. Ono što čovjek može biti, on mora biti.*

Izvor: www.istrazime.com

Napomena: Podatci o izvoru polaznoga sadržaja bit će objavljeni u rješenjima ispita.

Koja je vrsta potreba prema Maslowljevoj hijerarhiji motiva opisana u navedenoj rečenici?

(1 bod)

32. Koja je komponenta u nastanku emocionalne reakcije opisana u izjavi: „Problemi se mogu doživjeti kao nova prilika, a ne kao stres“?

(1 bod)

33. Kako se naziva postupak u konstruiranju testa inteligencije koji omogućuje da se usporedi i iskaže pojedinačni stupanj inteligencije neke osobe?

(1 bod)

34. Kako bi se ugodnije osjećao i češće družio, psihoterapeut pomaže mladiću promijeniti uvjerenje da će u društvu reći nešto neprimjereno i da će ga vršnjaci odbaciti. Koja je vrsta psihoterapije opisana u navedenom primjeru?

(1 bod)

35. Kako se naziva obilježje mišljenja adolescenata zbog kojega djevojka misli da ju nitko ne razumije i da nitko kao ona nije tako teško doživio svađu s prijateljicom?

(1 bod)

Psihologija

36. Pozorno pročitajte tekst.

Svatko se može naljutiti – to je lako. Ali, naljutiti se na pravu osobu, u pravoj mjeri, u pravo vrijeme, zbog valjanog razloga i na pravi način – to nije lako.

S kojom se vrstom inteligencije može povezati navedena izreka koja se pripisuje Aristotelu?

(1 bod)

37. Kako se u socijalnoj psihologiji naziva generalizirano mišljenje da su svi Englezi hladni i uštogljeni?

(1 bod)

38. Dvije su grupe učenika jednakih sposobnosti rješavale isti zadatak. Jednoj je grupi rečeno da će im za rješavanje trebati dosta vremena, ali da su potrebna samo osnovna matematička znanja. To je bio točan opis zadatka. Drugoj je grupi rečeno da je zadatak zahtjevan i da je preuzet s natjecanja iz Matematike. Druga je grupa bila manje uspješna u rješavanju. Kojom se pojavom iz socijalne psihologije može objasniti ovakav učinak upute?

(1 bod)

39. Studentica slikarstva obožava umjetnički pravac impresionizam. Divi se ljepoti i uživa u bojama impresionističkih slika. Koja je komponenta stava o impresionizmu opisana u navedenom primjeru?

(1 bod)

42. Pozorno pročitajte tekst.

Teško je i zamisliti kakav je šok doživio talijanski izbornik Roberto Mancini koji je 'azzurre' odveo do naslova europskog prvaka, a sada će talijanska reprezentacija po drugi put u nizu propustiti Svjetsko prvenstvo. Da, 'azzurra' nije bilo u Rusiji 2018., a neće ih biti ni ove godine u Kataru. Mancini je bio na rubu suza, od šoka je nakon utakmice jedva mogao i pričati...

Izvor: <https://www.tportal.hr>

Napomena: Podatci o izvoru polaznoga sadržaja bit će objavljeni u rješenjima ispita.

Navedite tri različite strategije suočavanja sa stresom koje bi talijanski izbornik mogao primijeniti u situaciji kad njegov klub gubi na kvalifikacijama za Svjetsko prvenstvo i svaku strategiju objasnite na navedenome primjeru.

(3 boda)

Psihologija

43. Pozorno pročitajte tekst.

Tajlandski beskućnik Woralop (44) posjedovao je svega 2 kune prije nego li je naišao na novčanik u kojem se nalazilo 3860,00 kuna. Izgubljeni novčanik prijavio je policiji i vratio ga sa svim dokumentima i novcem u njemu, kako piše Metro.

Izvor: <https://www.moj-posao.net>

Napomena: Podatci o izvoru polaznoga sadržaja bit će objavljeni u rješenjima ispita.

Objasnite ponašanje opisano u tekstu iz perspektive psihoanalitičkoga, socijalno-kognitivnoga te osobinskoga pristupa ličnosti.

(3 boda)



RJEŠENJA ISPITA DRŽAVNE MATURE IZ PSIHLOGIJE
U ŠKOLSKOJ GODINI 2022./2023.
1. rok

| BROJ ZADATKA | TOČAN ODGOVOR |
|--------------|---|
| 1. | C |
| 2. | D |
| 3. | A |
| 4. | C |
| 5. | C |
| 6. | C |
| 7. | C |
| 8. | A |
| 9. | C |
| 10. | B Izvor: https://express.24sata.hr/kultura |
| 11. | C |
| 12. | B |
| 13. | B |
| 14. | C |
| 15. | B |
| 16. | C |
| 17. | D |
| 18. | B |
| 19. | C Izvor: Rathus, S. (2001): Temelji psihologije, Naklada slap |
| 20. | C |
| 21. | A Izvor: https://unsplash.com/photos/Xz7MMD5tZwA |



| BROJ ZADATKA | TOČAN ODGOVOR |
|--------------|--|
| 22. | A Izvor: https://www.bajke.hr/carevo-novo-ruho-andersen |
| 23. | A |
| 24. | D |
| 25. | C |
| 26. | D |
| 27. | C |
| 28. | metodu opažanja; opažanje; opažanje u prirodnim uvjetima |
| 29. | koktel party fenomen; (načelo) figure i pozadine; (načelo) lika i pozadine; selektivnost pažnje |
| 30. | proceduralno; nedeklarativno; implicitno pamćenje Izvor: Matt i Tom Oldfield: <i>Moj nogometni heroj: Luka Modrić</i> , Rockmark d.o.o |
| 31. | potreba za samoaktualizacijom (samoostvarenjem); samoaktualizacija Izvor: https://www.istrazime.com/psihologija-licnosti/samoaktualizacija-ideal-psiholoskog-razvoja |
| 32. | kognitivna interpretacija; kognitivna procjena; kognitivni procesi |
| 33. | standardizacija; normiranje; baždarenje |
| 34. | kognitivno-bihevioralna |
| 35. | mit o sebi; osobni mit; bajka o sebi; adolescentski egocentrizam |
| 36. | emocionalnom; interpersonalnom; intrapersonalnom; socijalnom |
| 37. | stereotip |
| 38. | samoispunjavajućim proročanstvom; proročanstvom koje samo sebe ispunjava |
| 39. | emocionalna; afektivna |
| 40. | 3 boda Navedene su tri metode istraživanja od ponuđenih i za svaku je ispravno opisan postupak, npr.: |



| BROJ ZADATKA | TOČAN ODGOVOR |
|--------------|--|
| | <ul style="list-style-type: none">• Anketa – većemu broju zaposlenika dati upitnik kojim sami procjenjuju učinak različitih vrsta odmora na svoju kognitivnu fleksibilnost• Eksperiment – slučajnim rasporedom podijeliti zaposlenike na eksperimentalnu i kontrolnu skupinu te eksperimentalnu skupinu poslati na odmor, a kontrolnu skupinu ne te potom usporediti kognitivnu fleksibilnost tih dviju skupina kroz neki radni zadatak• Korelacijska metoda – istražiti postoji li povezanost između odlaska na odmor/duljine trajanja odmora i kognitivne fleksibilnosti tako da se prikupe podatci o duljini ili učestalosti odmora i rezultati nekoga zadatka koji mjeri kognitivnu fleksibilnost ili samoprocjenu kognitivne fleksibilnosti• Opazanje – na radnome mjestu opažati iskazuju li ispitanici u svojem radu kognitivnu fleksibilnost nakon odmora <p>2 boda Navedene su dvije ili tri metode istraživanja i za dvije je opisan ispravan postupak. Navedena je jedna ili dvije metode istraživanja i za tri je opisan ispravan postupak. Navedene su tri metode istraživanja i za jednu je opisan ispravan postupak.</p> <p>1 bod Navedena je jedna ili dvije metode istraživanja i za jednu je opisan ispravan postupak. Navedena je jedna metoda istraživanja i za dvije je opisan ispravan postupak. Navedene su dvije ili tri metode istraživanja. Opisana su dva ili tri postupka bez navođenja naziva metoda istraživanja.</p> <p>0 bodova Svi ostali odgovori koji ne uključuju gore navedeno.</p> <p>Izvor: https://www.kakosi.hr/2021/08/04/kako-se-dobro-odmoriti</p> |
| 41. | <p>3 boda Imenovana su i objašnjena tri geštaltistička načela perceptivne organizacije od ponuđenih:</p> |



| BROJ ZADATKA | TOČAN ODGOVOR |
|--------------|--|
| | <ul style="list-style-type: none">• načelo blizine – pokloni stoje jedan blizu drugoga pa ih percipiramo kao cjelinu• načelo simetrije – lijevi i desni dio poklona je simetričan i doživljavamo ga kao cjelinu• načelo zatvaranja – kutije percipiramo kao cjeline iako nedostaju pojedini dijelovi za koje pretpostavljamo da su bijela vrpca• načelo sličnosti – tri su kutije crne pa ih percipiramo kao jednu skupinu, a tri su zelene pa ih percipiramo kao drugu cjelinu (percipiramo dvije skupine poklona jer se razlikuju s obzirom na boju)• načelo kontinuiteta – vidimo pakete omotane mašnom koja je postavljena okomito i vodoravno, a ne bijele linije koje zatvaraju pravi kut. <p>2 boda</p> <p>Imenovana su dva ili tri načela perceptivne organizacije i točno su objašnjena dva.</p> <p>Imenovana su tri načela perceptivne organizacije i jedno je točno objašnjeno. Imenovano je jedno ili dva načela perceptivne organizacije i točno su objašnjena tri.</p> <p>1 bod</p> <p>Imenovano je jedno načelo perceptivne organizacije i točno je objašnjeno jedno ili dva.</p> <p>Imenovana su dva načela perceptivne organizacije i točno je objašnjeno jedno.</p> <p>Imenovana su dva ili tri načela perceptivne organizacije.</p> <p>Objašnjena su dva ili tri načela perceptivne organizacije.</p> <p>0 bodova</p> <p>Svi ostali odgovori koji ne uključuju gore navedeno.</p> |
| 42. | <p>3 boda</p> <p>Imenovane su tri (od niže navedenih) strategija suočavanja sa stresom i svaka je objašnjena primjerom:</p> <ul style="list-style-type: none">• kontroliranje/djelovanje na izvore stresa (suočavanje usmjereno na problem) – igranik se posvećuje boljoj organizaciji tima; pojačani treninzi |



| BROJ ZADATKA | TOČAN ODGOVOR |
|--------------|---|
| | <ul style="list-style-type: none">• kontroliranje/djelovanje na svoje doživljaje (suočavanje usmjereno na emocije) – izbornik traži utjehu od obitelji ili prijatelja; relaksira se u spa centru; vozi se biciklom jer ga to opušta.• prihvatanje – izbornik je pomiren s porazom; izbornik gleda situaciju na način da poraz vidi kao priliku za nove izazove• izbjegavanje – izbornik izbjegava sve daljnje turnire; izbjegava sve informacije o utakmicama i sportu <p>2 boda</p> <p>Imenovana su dva ili tri oblika suočavanja sa stresom i dva su opisana na primjeru.</p> <p>Imenovan je jedan ili dva oblika suočavanja sa stresom i tri su opisana na primjeru.</p> <p>Imenovana su tri oblika suočavanja sa stresom i jedan je opisan na primjeru.</p> <p>1 bod</p> <p>Imenovan je jedan ili dva oblika suočavanja sa stresom i jedan je opisan na primjeru.</p> <p>Imenovan je jedan oblik suočavanja sa stresom i dva su opisana na primjeru.</p> <p>Imenovana su dva ili tri oblika suočavanja sa stresom.</p> <p>Objašnjena su na primjeru dva ili tri oblika suočavanja sa stresom, ali nisu imenovana ili su navedeni pogrešni nazivi.</p> <p>0 bodova</p> <p>Svi ostali odgovori koji ne uključuju gore navedeno.</p> <p>Izvor: https://www.tportal.hr/sport/clanak/talijanski-izbornik-roberto-mancini-bio-je-na-rubu-suza-od-soka-nakon-poraza-od-makedonije-jedva-je-mogao-pricati-foto-20220325</p> |
| 43. | <p>3 boda</p> <p>Ponašanje je potpuno objašnjeno iz perspektive svih triju traženih teorijskih pristupa ličnosti, npr.:</p> <ul style="list-style-type: none">• Psihoanalitički pristup mogao bi tumačiti da beskućnik iz teksta ima vrlo razvijen superego koji se odnosi na moralna načela i usvojene standarde |



| BROJ ZADATKA | TOČAN ODGOVOR |
|--------------|---|
| | <p>koje osoba ima te se ego odlučuje ponašati u skladu s time, a ne sa sebičnim impulsima ida.</p> <ul style="list-style-type: none">• Socijalno-kognitivni pristup bi opisano ponašanje objasnio kao naučeno socijalnim učenjem (obitelj, okolina, kultura) i/ili samoregulacijom ponašanja u skladu s usvojenim standardima. Primjerice, u njegovoj je kulturi uobičajeno pomaganje, cijeni se poštenje i sukladno uvjerenjima koje je stekao samoregulira svoje ponašanje.• Osobinski pristup mogao bi pretpostaviti da beskućnik iz teksta ima visoko izraženu dimenziju savjesnosti koja podrazumijeva odgovorno postupanje i/ili visoko izraženu dimenziju ugodnosti odnosno stalo mu je da se drugi osjećaju dobro, empatičan je i obazriv. <p>2 boda Ponašanje je dobro objašnjeno iz perspektive dvaju teorijskih pristupa ličnosti. Ponašanje je objašnjeno iz perspektive svih triju teorijskih pristupa ličnosti, ali su objašnjenja nepotpuna ili sadrže netočnosti.</p> <p>1 bod Ponašanje je dobro objašnjeno iz perspektive jednoga teorijskog pristupa ličnosti. Ponašanje je objašnjeno iz perspektive dvaju teorijskih pristupa ličnosti, ali su objašnjenja nepotpuna ili sadrže netočnosti.</p> <p>0 bodova Svi ostali odgovori koji ne uključuju gore navedeno.</p> <p>Izvor: https://www.moj-posao.net/Press-centar/Details/76212/Beskucnik-vratio-novcanik-pun-novca-vlasnik-ga-je-nagradio-poslom/3</p> |
| 44. | <p>3 boda Navedene su sve tražene informacije:</p> <ul style="list-style-type: none">• Persuazija ili uvjeravanje je oblik komunikacije kojemu je cilj utjecati i promijeniti stavove neke osobe ili skupine ljudi.• Središnji put / Korištenje jakih argumenta – koristi se logika i činjenice pa bi reklama za turističko odredište uključivala podatke o znamenitostima i |



| BROJ ZADATKA | TOČAN ODGOVOR |
|--------------|--|
| | <p>aktivnostima koje destinacija nudi, isticala bi sigurnost i dugogodišnju tradiciju koju destinacija ima; povoljan omjer cijene i kvalitete; visoke ocjene posjetitelja.</p> <ul style="list-style-type: none">• Periferni put / Izazivanje jakih emocija – reklama bi nastojala izazvati ugodne emocije, primjerice, slikama mladih i uspješnih ljudi koji se dobro zabavljaju ili slikama obitelji koje uživaju u zajedničkim aktivnostima, zaljubljenih parova i sl. <p>2 boda</p> <p>Objašnjeno je što je persuazija ili uvjeravanje i naveden je i objašnjen na primjeru jedan element (način) uvjeravanja.</p> <p>Navedena su i objašnjena na primjeru dva elementa (načina) uvjeravanja bez objašnjenja što je persuazija.</p> <p>Objašnjeno je što je persuazija ili uvjeravanje i navedena su dva elementa (načina) uvjeravanja, ali bez objašnjenja na primjeru.</p> <p>Objašnjeno je što je persuazija ili uvjeravanje i objašnjena su na primjeru dva elementa (načina) uvjeravanja, ali bez navođenja naziva.</p> <p>1 bod</p> <p>Objašnjeno je što je persuazija ili uvjeravanje.</p> <p>Naveden je i objašnjen na primjeru jedan element (način) uvjeravanja.</p> <p>Navedena su dva elementa (načina) uvjeravanja, ali bez objašnjenja na primjeru.</p> <p>Objašnjena su na primjeru dva elementa (načina) uvjeravanja, ali bez navođenja naziva.</p> <p>0 bodova</p> <p>Svi ostali odgovori koji ne uključuju gore navedeno.</p> |